



ТАКМИЧЕЊЕ УЧЕНИКА ОСНОВНИХ ШКОЛА РЕПУБЛИКЕ СРБИЈЕ  
**"ШТА ЗНАШ О САОБРАЋАЈУ"**

ДН ОС

ШК-Б-44



1. Возач бицикла у ситуацији на слици:
- а) има првенство пролаза у односу на пешаке .....
  - б) дужан је да пропусти само пешака који се налази на његовој коловозној траци .....
  - ц) дужан је да пропусти све пешаке који су започели прелажење преко коловоза на означеном пешачком прелазу .....

4

2. У ситуацији на истој слици, возач бицикла се креће путем на коме је његово кретање:
- а) дозвољено .....
  - б) забрањено правилима саобраћаја .....
  - ц) забрањено ознакама на коловозу .....

4




3. Пешак се креће у ситуацији на слици:
- а) прописно, десном саобраћајном траком у правцу кретања .....
  - б) непрописно, јер треба да се креће крајњом левом саобраћајном траком у сусрет возилима .....
  - ц) путем на коме је кретање пешака забрањено .....

3

4. Путем који се налази на истој слици, кретање тешког трицикла и четвороцикла је:
- а) дозвољено .....
  - б) забрањено .....
  - ц) дозвољено, само ако се крећу крајњом десном саобраћајном траком .....

4



5. У ситуацији на слици, возач бицикла се креће:
- а) прописно .....
  - б) непрописно .....
  - ц) прописно, ако се креће што ближе десној ивици коловоза .....

4

6. Бициклом у саобраћају на јавном путу не сме управљати дете млађе од:
- а) 7 година .....
  - б) 9 година .....
  - ц) 12 година .....

4

7. Бициклическа стаза је пут намењен искључиво за кретање:
- а) бицикала и мопеда .....
  - б) бицикала .....
  - ц) бицикала, мопеда и лаких трицикала .....

2




**АМС**  
ОСИГУРАЊЕ

www.ams.co.rs  
 Кориснички центар: 0800 009 009  
 Централна: 011 30 84 900

8. Изузетно у пешачкој зони, зони успореног саобраћаја, зони "30", зони школе и некатегорисаном путу, бициклом може управљати и дете са навршених:

- а) седам година .....  **2**  
 б) девет година .....   
 ц) дванаест година .....




9. Пешаци у ситуацији на слици:

- а) имају првенство пролаза у односу на возача бицикла .....  **3**  
 б) немају првенство пролаза у односу на возача бицикла .....   
 ц) дужни су да се зауставе и пропусте возача бицикла .....

10. У ситуацији на истој слици, возач бицикла пре скретања удесно:

- а) не мора одручити десну руку .....  **2**  
 б) мора одручити десну руку и упозорити учеснике у саобраћају о својој намери .....   
 ц) може употребити само звучни знак да упозори пешаке о својој намери .....




11. Возач бицикла у ситуацији на слици креће се:

- а) непрописно .....  **3**  
 б) прописно .....   
 ц) путем на коме је његово кретање забрањено .....

12. У ситуацији на истој слици возач путничког аутомобила претиче теретно возило:

- а) прописно .....  **3**  
 б) прописно, јер му је претицање дозвољено ознакама на коловозу .....   
 ц) непрописно, јер тиме угрожава безбедност саобраћаја и омета саобраћај из супротног смера ...



13. Првенство пролаза у ситуацији на слици има:

- а) возач бицикла који скреће улево .....  **3**  
 б) возач бицикла који задржава правац кретања .....   
 ц) возач бицикла који се налази ближе раскрсници .....

14. У ситуацији на истој слици, првенство пролаза је регулисано:

- а) саобраћајним знаковима .....  **3**  
 б) правилима саобраћаја .....   
 ц) светлосним саобраћајним знаковима .....



15. Пешак је ступио на пешачки прелаз и започео прелаз преко коловоза у ситуацији на слици, и том приликом:

- а) има првенство пролаза у односу на зелени путнички аутомобил .....  **3**  
 б) нема првенствено пролаза у односу на зелени путнички аутомобил .....   
 ц) дужан је да се заустави и пропусти зелени путнички аутомобил .....

16. Приликом преласка преко коловоза, у ситуацији на истој слици пешак:

- а) сме да употребљава мобилни телефон .....  **3**  
 б) не сме да употребљава мобилни телефон, али сме да користи слушалице на ушима .....   
 ц) не сме да употребљава мобилни телефон нити да користи слушалице на ушима .....



17. Возач бицикла у ситуацији на слици:
- а) има првенство пролаза у односу на возача мотоцикла .....
  - б) дужан је да пропусти и мотоцикл и путнички аутомобил .....
  - ц) дужан је да пропусти само мотоцикл .....

3

18. У ситуацији на истој слици, када семафор не ради, возачи морају да поступају по:
- а) правилима саобраћаја .....
  - б) саобраћајним знаковима .....
  - ц) правилу десне стране .....

3



19. Возач бицикла врши скретање улево у ситуацији на слици:
- а) прописно .....
  - б) непрописно .....
  - ц) из саобраћајне траке којом је забрањено кретање возила .....

3

20. Бициклом на јавним путевима самостално у саобраћају не сме да управља дете млађе од:
- а) 7 година .....
  - б) 9 година .....
  - ц) 12 година .....

3

21. Водичи и гоничи животиња, када се крећу по коловозу ван насеља:
- а) не морају да носе светлодбојни прслук .....
  - б) морају да носе светлодбојни прслук .....
  - ц) морају да носе само црвену мараму .....

3



22. Десна рука полицијског службеника подигнута вертикално са дланом отворене шаке усмереним према напред - значи:
- а) слободан пролаз за сва возила .....
  - б) слободан пролаз само за возила која му долазе из правца према којима је окренут длан и прса полицијског службеника .....
  - ц) обавезно заустављање за све возаче према којима је окренут длан и прса полицијског службеника .....

4



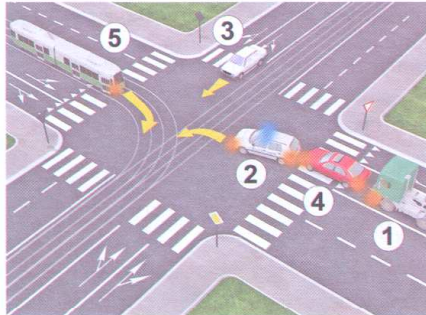
23. Возило полиције на задатку, у ситуацији на слици:
- а) дужно је да пропусти и трактор и запрежно возило који се крећу путем са првенством пролаза .....
  - б) има првенство пролаза у односу на сва возила .....
  - ц) дужно је да пропусти само трактор који му долази са његове десне стране .....

3

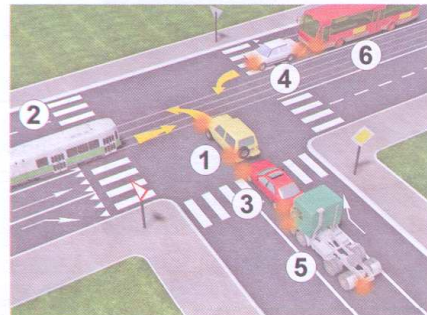
24. Приликом скретања улево, у ситуацији на истој слици, возач трактора:
- а) дужан је да пропусти и возило полиције и запрежно возило .....
  - б) има првенство пролаза у односу на сва возила .....
  - ц) дужан је да пропусти само возило полиције, а има првенство пролаза у односу на запрежно возило .....

3

25-26. У поља испод слике упиши бројеве који се налазе поред возила по редоследу проласка кроз раскрсницу:



4



4


27. У поља испод сваког саобраћајног знака уписати редни број који је испред описа њиховог значења.



2



1



1



2



2



2



2



2



2



1

1. Забрана саобраћаја за пешаке
2. Суужење пута с леве стране
3. Спојене стазе за бициклисте и пешаке
4. Обилажење са обе стране
5. Пешачка стаза
6. Ограничење брзине

7. Зона успореног саобраћаја
8. Дозвољени смерови
9. Скртање саобраћаја из једне коловозне траке у другу
10. Најмање дозвољена брзина
11. Обавезан смер
12. Деца на путу

**НАШИ ПРИЈАТЕЉИ!**

(Стартни број, име и презиме) \_\_\_\_\_

(назив-разред/школа/екипа) \_\_\_\_\_

100-   =

Поена Поена



CIP - Каталогизација  
у публикацији  
Народна библиотека  
Србије, Београд  
ISBN: 978-86-905477-1-5  
COBISS.SR-ID 128269324